










✚ Görsel ve harflerle ipucu verilen kelimeleri bulup karşlarına yazınız.

D 	→	<input type="text"/>	 AŞ	→	<input type="text"/>
TEM 	→	<input type="text"/>	 6	→	<input type="text"/>
 KA	→	<input type="text"/>	1 Ç 	→	<input type="text"/>
K 	→	<input type="text"/>	  Ş	→	<input type="text"/>

✚ İki resim arasındaki 10 farkı bulup kırmızı kalemle işaretleyiniz.



✚ Örnekteki gibi verilen kelimenin son harfiyle istenen kelimeleri türetiniz.


İnsan İsmi	Hayvan	Bitki	Eşya	Şehir
Esm (a) →	Asla (n) →	Na (r) →	Rady (o) →	Ordu
Ahme (t) →				
Sevg (i) →				
Ferid (e) →				
Zeyne (p) →				

İşlemleri yapınız ve örnekteki gibi yanındaki doğru sonuçla eşleştiriniz.


$\begin{array}{r} 4 \\ + 5 \\ \hline \end{array}$	<del>8</del> 9 <del>10</del>	$\begin{array}{r} 9 \\ - 5 \\ \hline \end{array}$	3 4 5	$\begin{array}{r} 9 \\ + 5 \\ \hline \end{array}$	12 13 14
$\begin{array}{r} 15 \\ + 10 \\ \hline \end{array}$	25 26 27	$\begin{array}{r} 15 \\ + 6 \\ \hline \end{array}$	19 20 21	$\begin{array}{r} 19 \\ - 8 \\ \hline \end{array}$	11 12 13
$\begin{array}{r} 8 \\ - 5 \\ \hline \end{array}$	3 4 5	$\begin{array}{r} 18 \\ + 9 \\ \hline \end{array}$	26 27 25	$\begin{array}{r} 10 \\ - 10 \\ \hline \end{array}$	0 1 2

Belirtilen şekilleri istenen renklerle boyayınız.

Üçgen	→	Sarı	Kare	→	Mavi	Dikdörtgen	→	Mor	Çember	→	Yeşil
-------	---	------	------	---	------	------------	---	-----	--------	---	-------




Ördeklerden oluşan sayı tablosunu uygun sayılarla tamamlayınız.



İkili verilen kelimelerden eş anlamlıları sarıya, zıt anlamlıları mora boyayınız.



Aşağıdaki meyve ve sebzelerin isimlerini yazınız.



Aşağıdaki cümle etkinliklerini yapınız.

DÜŞÜN VE YAZ	
Siyah renkli bir şey yaz.	
Şehrinin adını yaz.	
En sevdiğin dersi yaz.	
Sevimli bir hayvan yaz.	
Bir ev eşyası yaz.	
Güzel kokan bir çiçek yaz.	

CÜMLEYİ TAMAMLA	
Eve gelir gelmez .....	
Ben en çok .....	
Matematik dersi .....	
Para olmasaydı .....	
Ben büyüyünce .....	
İlkbahar mevsiminde .....	

+ İstenen zaman ölçülerini yazınız.

Hafta içi günleri					Hafta sonu günleri	
1.gün	2.gün	3.gün	4.gün	5.gün	6.gün	7.gün

1. Ay	2. Ay	3. Ay	4. Ay	5. Ay	6. Ay

7. Ay	8. Ay	9. Ay	10. Ay	11. Ay	12. Ay

Kış mevsiminin ayları			İlkbahar mevsiminin ayları		

Yaz mevsiminin ayları			Sonbahar mevsiminin ayları		

+ Paraların miktarlarını altlarına yazınız.



+ Aşağıdaki iki işlemli problemleri çözünüz.

Bir otobüste 27 yolcu vardı. Durakta 6 yolcu indi ve 9 yeni yolcu bindi. Şimdi otobüste kaç yolcu oldu?

**Çözüm**

Şeyma'nın 14 cevizi vardı. Annesi 8 ceviz daha verdi. Şeyma cevizlerden 6 tanesini yedi. Kaç cevizi kaldı?

**Çözüm**

İki kutudan birincisine 9 misket, ikincisine birincisinden 6 fazla misket koydum. İki kutuda toplam kaç misket oldu?

**Çözüm**